

گراد
[GARD] [گروه آموزشی]

پنجم دبستان

برگ آزمون جامع ماهانه

ب



- هدیه‌های آسمان
- مطالعات اجتماعی
- فارسی
- ریاضی
- علوم

آزمون‌های ماهانه بر مبنای جدول بودجه بندی

ارزشیابی نوبت اول و دوم

پاسخنامه آنلاین

دریافت پاسخنامه



کلاس:

دبستان:

نام و نام خانوادگی:

هریه های آسمان (صفحه ۱ تا ۲۵)

۱) درستی یا نادرستی عبارت‌های زیر را مشخص کنید.

درست نادرست

۱-۱ حضرت مریم مادر حضرت موسی (ع) بود.

درست نادرست

۱-۲ «اجْتَنِبُوا كَثِيرًا مِّنَ الظَّنِّ» مربوط به اندیشه نیک است.

۲) گزینه صحیح را مشخص کنید.

۲-۱ کدام یک نام یکی از سوره‌های قرآنی نیست؟

حمد سجده قنوت اخلاص

۲-۲ کدام یک از موارد زیر کتاب حضرت عیسی (ع) می‌باشد؟

الف) تورات ب) انجیل ج) اوستا د) قرآن

۳) جاهای خالی را با کلمات مناسب پر کنید.

۳-۱ بلندترین سوره قرآن نام دارد.

۳-۲ در قرآن سوره‌ای بنام یکی از بانوان برتر بهشتی حضرت وجود دارد.

۴) به سؤالات زیر پاسخ دهید.

۴-۱ طبق آیه قرآن، اگر در آسمان و زمین بیش از یک خدا وجود داشت چه اتفاقی می‌افتاد؟

۴-۲ یک مورد از هماهنگی‌هایی که در بدن انسان وجود دارد نام ببرید.

۴-۳ سه سوره از قرآن نام ببرید که به نام انبیا نام‌گذاری شده‌است.

۴-۴ سوره ای که به نام یکی از روزهای هفته است چه نام دارد؟

کلاس:

دبستان:

نام و نام خانوادگی:

مطالعات اجتماعی (صفحه ۱ تا ۱۵)

۱ درستی و نادرستی عبارتهای زیر را مشخص کنید.

- ۱-۱ ما حق داریم در زندگی و مسائل شخصی دوستانمان کنجکاو کنیم. درست نادرست
- ۱-۲ هنگامی که کسی با ما حرف میزند نباید به جایی دیگر نگاه کنیم. درست نادرست
- ۱-۳ ما انسانها برای زندگی فقط به آب، غذا و هوا نیاز داریم. درست نادرست
- ۱-۴ ما در هنگام نوزادی و کودکی با کسی ارتباطی نداریم. درست نادرست

۲ جاهای خالی را پر کنید.

- ۲-۱ برخی از احساسات ما و برخی هستند.
- ۲-۲ اگر ارتباط با دیگران نباشد ما احساس می کنیم.
- ۲-۳ وقتی شرایط و افراد را در موقعیتهای مختلف درک می کنیم با آنها کرده ایم.
- ۲-۴ مهم ترین راه ارتباط انسانها با یکدیگر است. وقتی با حرکات و حالات چهره نشان می دهیم که از موضوعی تعجب کردیم در واقع یک ارتباط برقرار کرده ایم.

۳ گزینه صحیح را مشخص کنید.

- ۳-۱ کدام یک از ترسهای زیر، ترس به جا است؟
 ترس از هیولا ترس از تاریکی ترس از حیوانات درنده ترس از آمپول
- ۳-۲ دوست علی ناراحت بود، علی تلاش می کرد ناراحتی او را برطرف کند این کار او چه نام دارد؟
 همکاری مشورت همدلی همفکری
- ۳-۳ در موقعیت زیر کدام اصل گفتگو رعایت نمی شود؟
 «سپهر هنگامی که دوستش در حال، حل کردن مسئله ریاضی است، نظر او را در مورد مسابقه فوتبال می پرسد.»
 حفظ حریم شخصی قطع نکردن حرف گوینده
 دقت و توجه به سخنان انتخاب زمان مناسب گفتگو
- ۳-۴ جمعیت هلال احمر و سازمان انتقال خون، به چه کسانی کمک می کند.
 افرادی که نیاز مالی دارند افرادی نیازمند یا کسانی که با مشکل روبرو شده اند
 افرادی بیکار و از کار افتاده افرادی که مشکل جسمی دارند

۴ دانشمندان از روی مطالعه فسیل‌ها چه اطلاعاتی را کسب می‌کنند. (۳ مورد)

۵ مراحل تشکیل فسیل را توضیح دهید.

۶ چرا از گیاهان و حشرات فسیل کمتری پیدا می‌شود؟

۷ وصل کنید (یک کلمه اضافی است).

- | | |
|--------------|--|
| • منشور | • به باقی مانده قسمت‌های سخت جانداران و گیاهان می‌گویند. |
| • آینه | • وسیله‌ای آزمایشگاهی که نور را تجزیه می‌کند. |
| • ذره بین | • نور را در یک نقطه جمع می‌کند. |
| • فسیل | • به وسیله‌ی آن می‌توانیم اجسام را روی پرده ببینیم. |
| • شیشه | • ذره‌بین را معمولاً از آن می‌سازند. |
| • عدسی | • نور از آن عبور نمی‌کند. |
| • رنگین کمان | |

۱۸

گروه آموزشی گراد

۸ رنگین کمان چگونه تشکیل می‌شود؟

۹ یک آزمایش طراحی کنید که با آن بتوان نور خورشید را تجزیه کرد.

۴

معنی واژه‌های زیر را بنویسید.

مهرگان: معجزه آسا: اهتراز: بستد:
 افق: خاوران: قر: موزون:
 غازی:

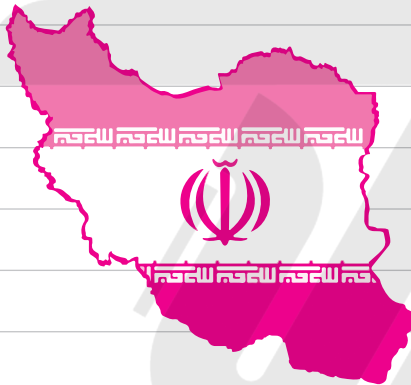
۵

عبارت‌های که به هم مربوطند را به هم وصل کنید.

- شاعر شعر «ای ایران»
- زبان رسمی و ملی ایران
- مترجم داستان گلدان خالی
- سرود ملی نشان دهنده
- نورا حق پرست
- فارسی
- حسین گل گلاب
- افتخار و عظمت

۶

جمله‌ها را با دقت بخوانید و با توجه به مفهوم مرتب کنید.



- و سلام می‌شنوی.
- کارهای خوب‌مان نتیجه خوب دارد.
- باز همان را به تو برمی‌گرداند.
- حتماً تا به حال به کوه رفته‌ای.
- و اگر کار بدی انجام دهی به خودتان بدی کرده‌اید.
- اگر آن‌جا به کوه سلام کنی، صدای سلامت به خودت برمی‌گردد.
- دنیا هم مثل کوه است.
- و کارها بدمان نتیجه بد
- اگر هم کوه حرف تند و تلخ بزنی.

۲۴

گروه آموزشی گراد

۷

کلمه‌ی مناسب را انتخاب کنید و در جای خالی بنویسید.

بزرگ

کهن

عظمت

نیایش

افتخارات

۷-۱ سرود ملی کشور ما با دعا و پایان می‌یابد.

۷-۲ دعا برای و جاودانگی ملت و کشوری که با تاریخ و بزرگ خود در جهان می‌درخشد.

۵ هر عبارت رو به کلمه مربوط به خودش وصل کنید.

- در اسلام برداشتن مال دیگران این حکم را دارد.
- آیه (وَيْلٌ لِلْمُطَفِّفِينَ) بر این صفت اشاره دارد.
- یکی از آداب روز غدیر.....
- به دیدار سادات رفتن
- حرام
- کم فروشان

۶ کلمات مربوط به نماز جمعه را رنگ کنید.

در صبح خوانده می‌شود

سوره‌ی جمعه

خطبه

در روز جمعه خوانده می‌شود

دو قنوت

در هر دو رکعت بعد از حمد سوره توحید خوانده می‌شود

فردادی خوانده می‌شود

۷ چه کارهایی را خدا نمی‌پسندد؟ (۴ مورد را نام ببرید.)

۸ حضرت محمد (ص) در روز عید غدیر خم چه دعایی کرد؟

۳۲

۹ معنی آیه ی «مَنْ كُنْتُ مَوْلَاهُ فَهَذَا عَلِيٌّ مَوْلَاهُ» چیست؟

۲-۳ سرود ملی کشورها معمولاً (کوتاه، کوچک) است.

۳-۳ شهیدان پیچیده در (کوچه گوش) زمان فریادتان.

۳-۴ چه کسی از فلان درد (شکایت، حکایت) کرد؟

۳-۵ گر (باران، آتش، باد) بارد به پیکرم.

۴ کلمات زیر را با «گر یا گار» ترکیب کنید و با یکی از واژه‌های جدید جمله بسازید.

پژوهش، گزارش، خواست، یاد، پرهیز، اشتغال

۵ واژه‌های زیر را بخوانید و در جدول دسته‌بندی کنید.

شنیدنی‌ها	گوش‌دادنی‌ها

فش فش برگ‌ها، تدریس معلم،
بوق ماشین، افبار، تیک تاک ساعت،
رعدوبرق، صدای ترمز ماشین،
قصه‌ی مادر بزرگ، آهنگ مورد علاقه

۶ با توجه به متن زیر به سوالات پاسخ دهید.

مردی تاجر در حیاط قصرش انواع مختلف درختان و گیاهان را کاشته و باغ بسیار زیبایی را به وجود آورده بود. هر روز بزرگ‌ترین سرگرمی و تفریح او در باغ و لذت بردن از گل‌ها بود، تا این که یک روز به سفر رفت. در بازگشت، در اولین فرصت به دیدن باغش رفت، اما با دیدن آنجا سر جایش خشکش زد. تمام آن‌ها در حال خشک شدن بودند، رو به درخت صنوبر که پیش از این بسیار سرسبز بود کرد و از او پرسید: چه اتفاقی افتاده است؟ درخت پاسخ داد: من به درخت سیب نگاه کردم و با خود گفتم که من هرگز نمی‌توانم مثل او چنین میوه‌هایی به بار بیاورم و با این فکر چنان ناراحت شدم که شروع به خشک شدن کردم.

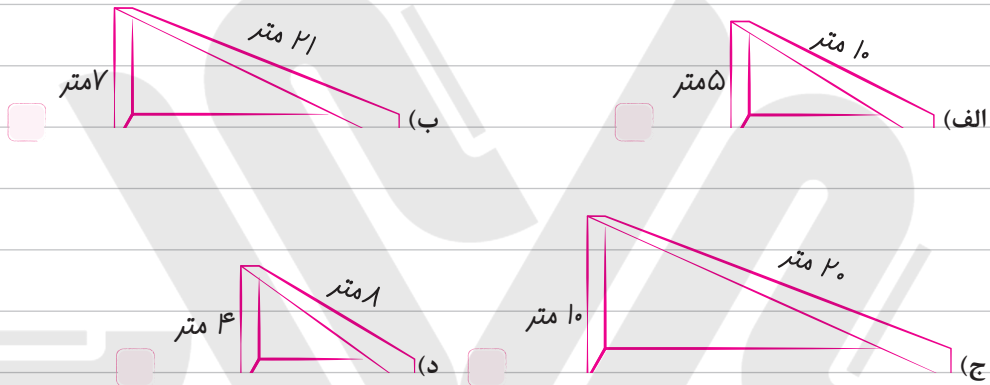
الف) کلمه‌های جمع، در متن بالا را پیدا کن و دور آن را خط بکش.

ب) بزرگ‌ترین تفریح مرد چه بود؟

ج) چرا مرد تاج سر جایش خشکش زد؟

د) پیام داستان چه بود؟

۲-۵ بالا بردن یک بشکه ۱۰۰ کیلوگرمی از کدام سطح شیب‌دار راحت‌تر است؟



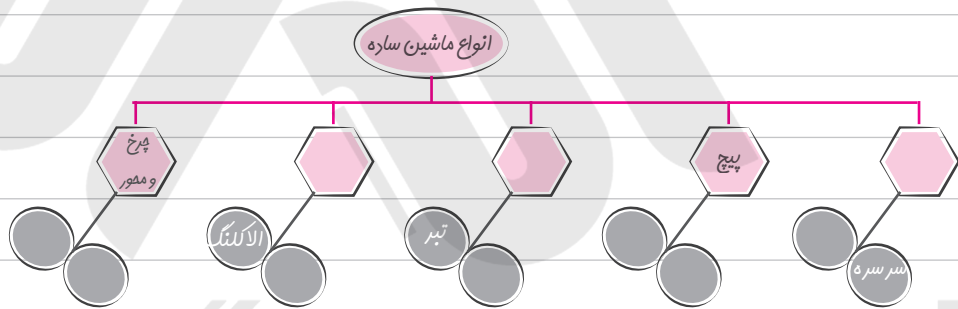
۳ به پرسش‌های زیر پاسخ کوتاه بدهید.

۱-۲ اگر در یک پیچ، فاصله دندان‌ها را کم‌تر کنیم چه اتفاقی می‌افتد؟

۲-۲ دو وسیله که توسط قرقه کار می‌کند را نام ببرید.

۳-۳ چرخ و محور چیست؟

۴ نقشه زیر را کامل کنید.



۵۱

گروه آموزشی گراد

۵ چرا جاده‌های کوهستانی شمال پرپیچ‌وخم است؟

۶ سه مورد از کاربردهای قرقه را نام ببرید.

کلاس:

دستان:

نام و نام خانوادگی:

مطالعات اجتماعی (صفحه ۱۵ تا ۹۶)

۱ درستی یا نادرستی عبارت‌های زیر مشخص کنید.

- ۱-۱ آرامگاه پیامبر (ص) در کعبه و قبله اول مسلمین است. درست نادرست
- ۱-۲ پیام عاشورا، زنده نگه داشتن دین اسلام و امر به معروف و نهی از منکر است. درست نادرست
- ۱-۳ مسجد النبی در شهر مدینه قرار دارد. درست نادرست

۲ گزینه صحیح را علامت بزنید.

- ۲-۱ اولین پیشنهاد کافران و ثروتمندان به پیامبر (ص) برای جلوگیری از پیشرفت اسلام چه بود؟
 الف) نوشتن عهدنامه ب) شکنجه و آزار ج) دادن پول و مقام د) قطع رابطه با مسلمانان
- ۲-۲ در زمان امامت امام حسین (ع) چه کسی حاکم بود؟
 الف) ابوسفیان ب) مأمون ج) یزید د) متوکل
- ۲-۳ واقعه عاشورا باعث رسوایی کدام خاندان شد؟
 الف) بنی عباس ب) بنی امیه ج) بنی قریش د) خوارج

۳ جاهای خالی را کامل کنید.

- ۳-۱ پس از فتح مکه پیامبر (ص) وارد شد. بت‌ها را شکست و دستور داد که بر بام کعبه بگویند.
- ۳-۲ به سفر پیامبر (ص) از مکه به مدینه می‌گویند.
- ۳-۳ دومین مسجد مهم مسلمانان را می‌گویند.

۴ پاسخ کوتاه دهید.

۴-۱ اولین کار پیامبر (ص) در مدینه چه بود؟

۴-۲ یزید چگونه فردی بود؟

۴-۳ نام قدیمی شهر مدینه چه بود و چرا تغییر یافت؟

کلاس:

دبستان:

نام و نام خانوادگی:

فارسی (صفحه ۱۱۱ تا ۱۲۰)

۱ گزینه ی مناسب را انتخاب کنید.

۱-۱ معنی واژه‌های (غلام، در نهاد، جامه، غوطه خورد) در کدام گزینه صحیح است؟

- (الف) پادشاه، ایستادگی کرد، جامعه، غلتیدن
- (ب) بنده، مقاومت کرد، پیراهن، رشد کردن
- (ج) خدمتکار، آغاز کرد، لباس، غرق شدن
- (د) پادشاه، شروع کرد، لباس، غلتیدن

۱-۲ جمع کدام گزینه صحیح است؟

- (الف) ستاره: ستاره گان (ب) حاکم: حکم
- (ج) کاج: کاجستان (د) خط: خطوط

۱-۳ در کدام گزینه چون به معنای (مثل، مانند) است؟

- (الف) چون باران می آمد، خیس شده بود
- (ب) آن دو را چون دو، دوست می دیدند
- (ج) به مدرسه می روم، چون یاد گیری را دوست دارم
- (د) چو آیند و پرسند گردن کشان

۱-۴ گلستان ده باب دارد و باب آن « » است.

- (الف) اول، حکمت (ب) چهارم، حکمت
- (ج) اول، در سیرت پادشاهان (د) دوم، دانایی

۲ با حروف درهم ریخته یک کلمه معنادار بنویسید.

(ا ن گ ا ن)

(ا ج ک س ا ن ت)

(ت ا ح ر)

۳ دو صفت برای کاج همسایه که به کاج آسیب دیده کمک کرد بنویسید.

کلاس:

دبستان:

نام و نام خانوادگی:

مطالعات اجتماعی (صفحه ۱۰۶ تا ۱۱۱)

۱ درستی و نادرستی عبارت‌های زیر را مشخص کنید.

۱-۱ از جمله کسانی که در مقابل مغول‌ها ایستادگی کرد، سلطان جلال‌الدین خوارزمشاه پسر سلطان محمود بود.

درست نادرست

۱-۲ عطار نیشابوری از جمله شاعرانی بود که در زمان مغول و تیموری زندگی می‌کرد.

درست نادرست

۱-۳ مغولستان سرزمینی با آب‌وهوای گرم و مرطوب بود.

درست نادرست

۲ گزینه صحیح را علامت بزنید.

۲-۱ شغل مردم مغول چه بود؟

الف) دامداری ب) کشاورزی ج) غارت اموال مردم د) ساخت صنایع دستی

۲-۲ چه کسی در برابر مغول ایستادگی کرد؟

الف) سلطان محمود غزنوی ب) سلطان جلال‌الدین

ج) سلطان ملک‌شاه سلجوقی د) محمد خوارزمی

۲-۳ حاکم مغولستان بود.

الف) سلطان محمد ب) سلطان جلال‌الدین خوارزمشاه

ج) تیمور د) چنگیز خان

۳ جای خالی را کامل کنید.

۳-۱ در زمان خوارزمشاهیان در ایران و چین سرزمینی به نام مغولستان بود.

۳-۲ ۴۰ سال بعد از حمله چنگیز، نوه او با سپاهی بزرگ به ایران حمله کرد.

۳-۳ رصدخانه مراغه به همت تأسیس شد.

۴ پاسخ کوتاه دهید.

۴-۱ چرا مغول‌ها به ایران حمله کردند؟ (۳ مورد)

کلاس:

دبستان:

نام و نام خانوادگی:

مطالعات اجتماعی (کل کتاب)

۱) درستی و نادرستی عبارتهای زیر را مشخص کنید.

۱-۱) خواجه نصیرالدین طوسی از مشاوران تیمور بود. درست نادرست

۱-۲) برنج و چای از محصولات استان گیلان است. درست نادرست

۱-۳) به کسی که کشتی را هدایت می کند خلبان یا ناخدا می گویند. درست نادرست

۲) گزینه صحیح را علامت بزنید.

۲-۱) در کدام دوره به دستور خواجه نظام الملک، مدارس به نام نظامیه در شهرهای بزرگ دایر شد.

الف) خوارزمشاهیان ب) تیموریان ج) غزنویان د) سلجوقیان

۲-۲) کدامیک از موارد زیر جزء صنایع مادر نیست؟

الف) ذوب آهن ب) پارچه بافی ج) پتروشیمی د) ماشین سازی

۲-۳) دولت از چه افرادی تشکیل شده است؟

الف) رئیس جمهور و هیئت وزیران ب) نمایندگان مجلس و هیئت وزیران

ج) رئیس جمهور د) رئیس جمهور، هیئت وزیران و نمایندگان مجلس

۳) جاهای خالی را با کلمات مناسب پر کنید.

۳-۱) پایتخت کشور عراق است.

۳-۲) مرقد امام علی (ع) در شهر است.

۳-۳) امام حسین (ع) در سال و ماه به شهادت رسیدند.

۳-۴) نتیجه حرکت چرخشی زمین و نتیجه حرکت انتقالی زمین را می گویند.

۳-۵) با ورود عرب های مسلمان به ایران حکومت منقرض شد.

۴) جدول را کامل کنید و برای هر کدام دو مورد بنویسید.

عوامل جذب کننده جمعیت	عوامل دفع کننده جمعیت

۵ موارد زیر را توضیح دهید.

۵-۱ مبدأ تاریخ مسلمانان چیست؟

۵-۲ نصف‌النهار را تعریف کنید.

۵-۳ جهاد در راه خدایعنی چه؟

۶ کدامیک از علامت‌ها، علامت جمعیت هلال احمر است؟



۷ جدول را کامل کنید.

حکومت	پایتخت	یک نمونه شهر	شخصیت معروف
طاهریان			
صفاریان			
ساسانیان			
آل بویه			
علویان			

۱۰۰

گروه آموزشی گراد

۸ احساس ترس نابجا و بجا را مشخص کنید.

ترس از آمپول

ترس از تاریکی

ترس از پرت شدن از ارتفاع

ترس از غول

۹ به پیروان ابومسلم چه می گفتند و چه کاری انجام دادند؟